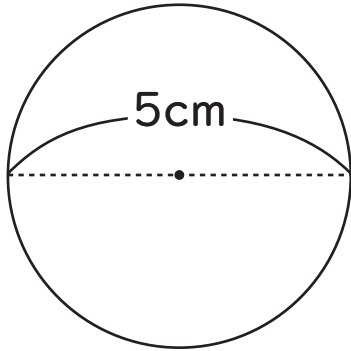


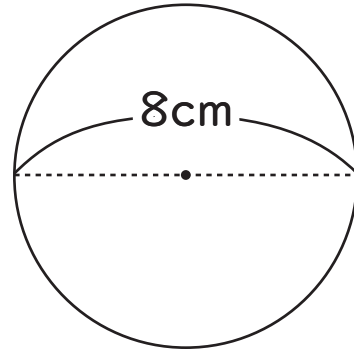
● 次の円の円周の長さを求めましょう。

1



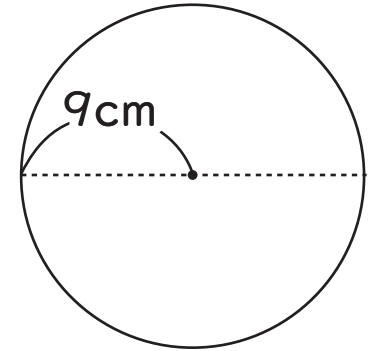
( )

2



( )

3



( )

4 直径 2cm の円

( )

5 直径 4cm の円

( )

6 半径 7cm の円

( )